

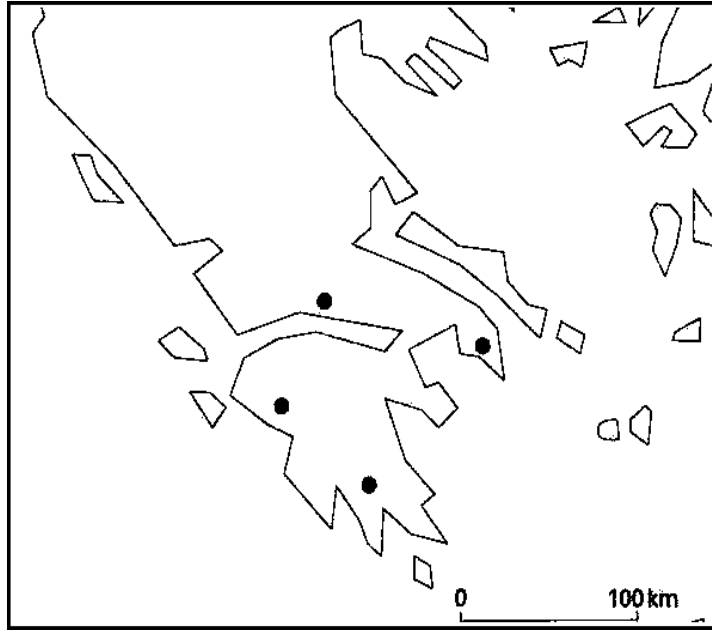
Athènes au V^e s, une cité rayonnante

Pour étudier Athènes au Ve s av~JC, vous disposez d'une fiche d'activité et d'une page Web réunissant un ensemble de liens qui vous permettront découvrir la ville et ses lieux.

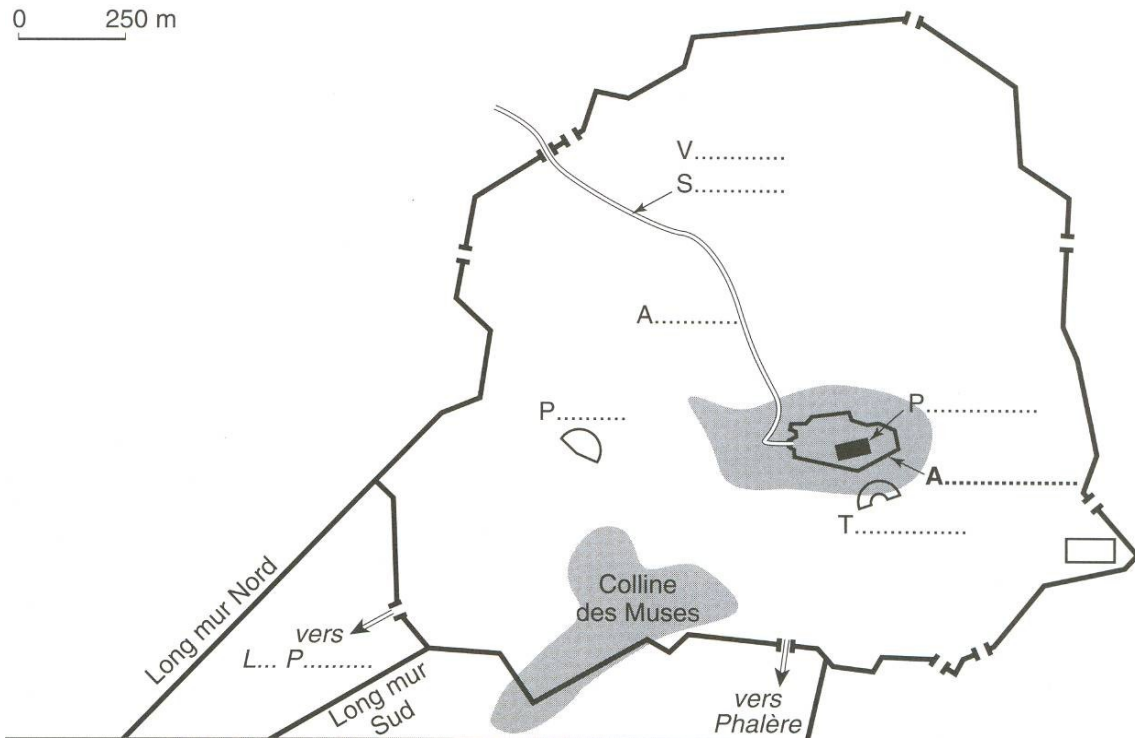
• **A-Athènes, une ville, une région.**

A partir des **Liens 1 & 2**, répondez aux questions suivantes :

Q1 : Localisez sur ce fond de carte, Athènes, et entourez d'un cercle rouge sa région en la nommant.



Q2 : Remplissez ce plan de la cité d'Athènes au V^e s av~JC.



• **B-L'Acropole, le centre religieux de la Cité.**

A partir des **Liens 3 & 4**, répondez aux questions suivantes :

Q1 : Remplissez ce plan de l'Acropole en notant dans les cercles les numéros correspondant à des parties.



- | | |
|------------------------|-------------------|
| ① Parthénon | ④ Érechthéion |
| ② Temple d'Athéna Nikè | ⑤ Propylées |
| ③ Autel d'Athéna | ⑥ Statue d'Athéna |

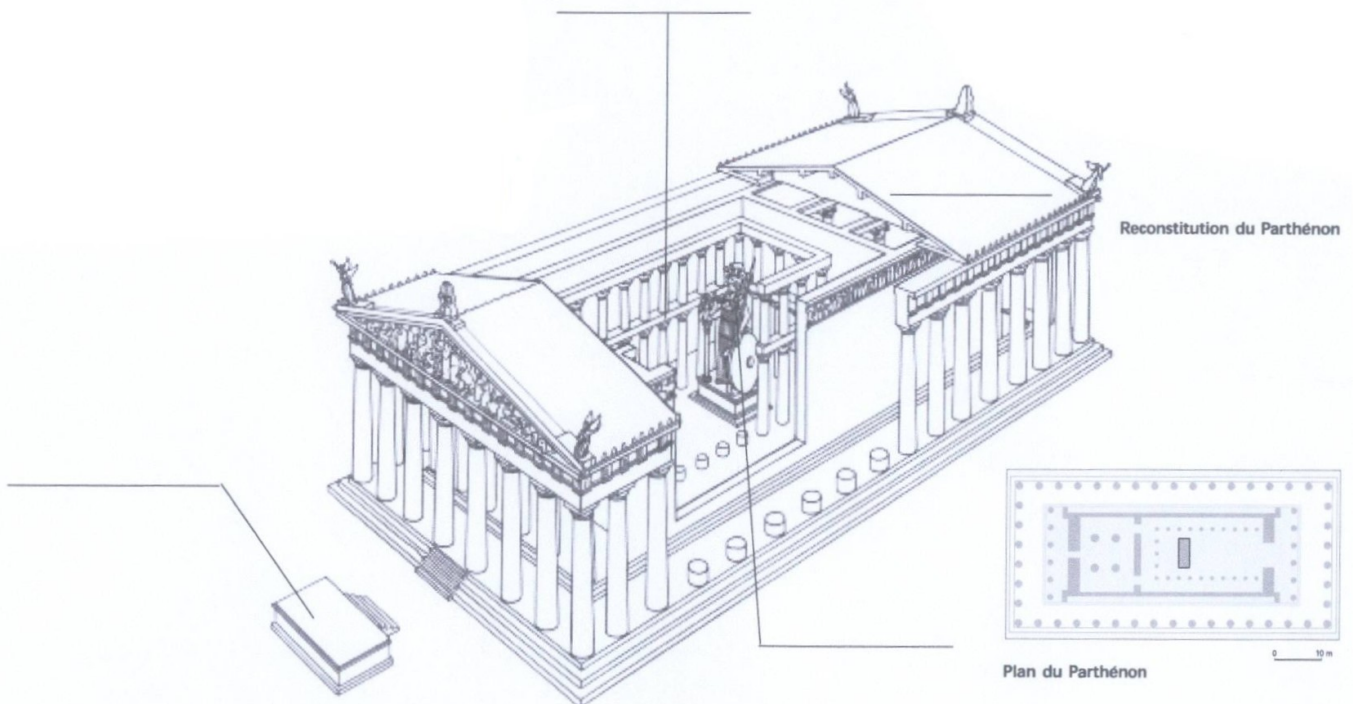
• **C-Le Parthénon.**

A partir des **Liens 5 & 6**, répondez en quelques phrases aux questions suivantes :

Q1 : A quel Dieu le temple du Parthénon, était-il dédié ?

.....
.....
.....

Q2 : Sur ce croquis du Parthénon, remplissez les trois éléments manquants :



Q3 : Quel homme politique athénien a ordonné la construction du Parthénon ?

.....
.....
.....

Q4 : Quel fut le célèbre architecte du Parthénon ?

.....
.....
.....

• **D-La Frise des Panathénées.**

A partir du **Lien 7 & 8**, répondez en quelques phrases aux questions suivantes :

Q1 : Expliquez ce qu'était la Fête des Panathénées : quand avait-elle lieu ? Qui y était célébré ? Par qui ?

.....
.....
.....


Q2 : Dans les cadres correspondants, donnez un titre à ces morceaux de la frise.



.....



.....



.....



.....

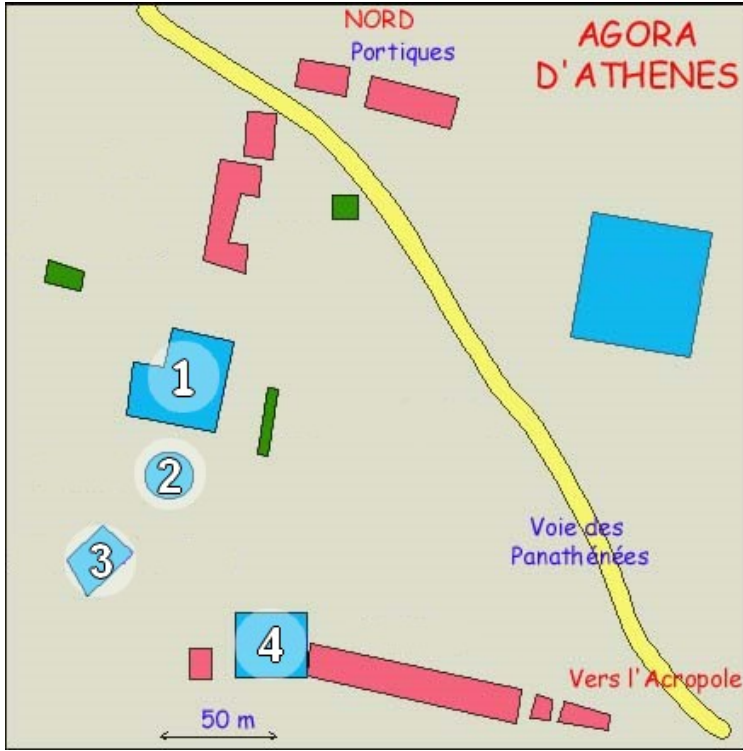
• **E-L'Agora, le centre politique d'Athènes.**

A partir du **Lien 9**, répondez en quelques phrases aux questions suivantes :

Q1 : Quelles étaient les différentes fonctions de l'Agora ?

.....
.....
.....

Q2 : Rendez à chaque numéro le monument qui lui correspond, en expliquant quelle était son utilité ?



1.....
.....
.....

2.....
.....
.....

3.....
.....
.....

4.....
.....
.....